

**PRUEBA DE APTITUD ARTÍSTICA
CICLOS FORMATIVOS DE GRADO MEDIO
CONVOCATORIA 2017
SEPTIEMBRE**

RESOLUCIÓN 113/2017, de 7 de abril

CALIFICACIÓN

| |
|--|
| |
|--|

APELLIDOS

NOMBRE DNI

Contesta, verdadero o falso, a las siguientes preguntas:

(2 puntos. 0,2 puntos por pregunta correcta)

| | V | F |
|--|---|---|
| 1. La impresión en relieve es aquella en la que se imprime, precisamente, la zona más elevada de la matriz. | | |
| 2. El vídeo digital puede copiarse sin degradación en la calidad. | | |
| 3. El origami consiste en el plegado de papel para obtener figuras de formas variadas. | | |
| 4. El modelo CMYK es un modelo de color aditivo que se utiliza en la impresión en colores. | | |
| 5. Un hipervínculo es un elemento de un documento electrónico que hace referencia a otro recurso. | | |
| 6. Vincent van Gogh es una de las figuras más relevantes del Cubismo. | | |
| 7. El píxel es la unidad más pequeña de una imagen digital. | | |
| 8. El storyboard proporciona una disposición visual de acontecimientos tal como deben ser vistos por el objetivo de la cámara. | | |
| 9. Oteiza es un artista conocido principalmente por sus paisajes de gran formato. | | |
| 10. El Plano americano es un tipo de plano que encuadra desde la cabeza hasta las rodillas. | | |

PRUEBA DE APTITUD ARTÍSTICA
CICLOS FORMATIVOS DE GRADO MEDIO
CONVOCATORIA 2017
SEPTIEMBRE

Escribe, en el recuadro inferior, un comentario comparando estas dos imágenes. (1 punto)






**PRUEBA DE APTITUD ARTÍSTICA
CICLOS FORMATIVOS DE GRADO MEDIO
CONVOCATORIA 2017
SEPTIEMBRE**


Dibujo de línea. Termina el dibujo incompleto. (Mano alzada)

(2 puntos)



PRUEBA DE APTITUD ARTÍSTICA
CICLOS FORMATIVOS DE GRADO MEDIO
CONVOCATORIA 2017
SEPTIEMBRE


Motivo geométrico. Completa la siguiente figura. Si es preciso utiliza líneas auxiliares. (Mano alzada)
(2 puntos)



PRUEBA DE APTITUD ARTÍSTICA
CICLOS FORMATIVOS DE GRADO MEDIO
CONVOCATORIA 2017
SEPTIEMBRE

Valoración de grises. Completa la siguiente foto, reconstruye la parte que falta utilizando los grises necesarios.

(2 puntos)





PRUEBA DE APTITUD ARTÍSTICA
CICLOS FORMATIVOS DE GRADO MEDIO
CONVOCATORIA 2017
SEPTIEMBRE

Dibujo técnico. A partir de la pieza isométrica dada realiza las vistas. . (Mano alzada)

(1 punto)

